

# EINZELPHOTON-INTERFERENZ BEIM MACH-ZEHNDER INTERFEROMETER

Seit gut 20 Jahren können Interferenzexperimente auch mit einzelnen Photonen durchgeführt werden. In diesem Workbook untersuchen wir das Verhalten **einzelner** Photonen beim Mach-Zehnder Interferometer. Zu dem Experiment steht ein Simulationsprogramm zur Verfügung.

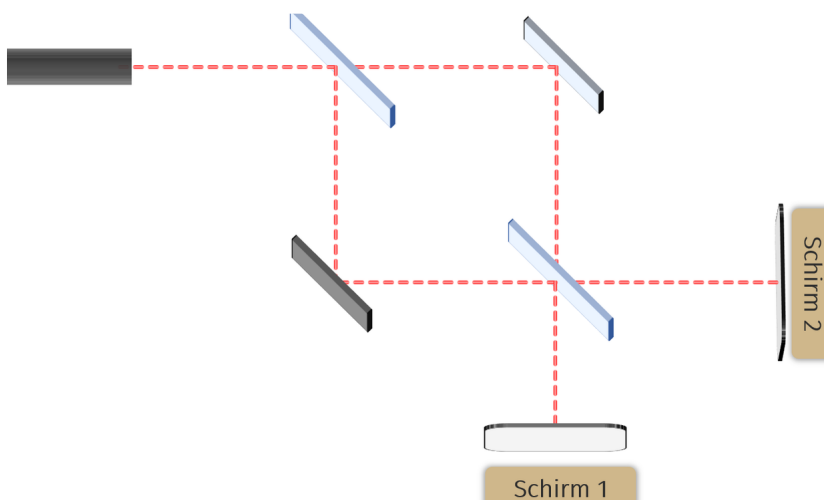


## Simulationsprogramm

Am Laptop kann ein Simulationsprogramm für Einzelphoton-Interferenz am Mach-Zehnder Interferometer installiert werden:  
<https://www.milq.info/materialien/simulationsprogramme/>

① Betrachte die untenstehende Skizze vom Strahlengang.

- Zeichne den Weg der beiden Teilstrahlen ein, die auf Schirm 1 interferieren.
- Zeichne (mit einer anderen Farbe) den Weg der beiden Teilstrahlen ein, die auf Schirm 2 interferieren.
- Notiere an beiden Schirmen jeweils die Anzahl von Reflektionen (R) und Transmissionen (T), die jeder der Teilstrahlen an den Strahlteilern durchläuft.



## Expertenaufgaben

Achtung! Bei den Einzelphoton-Aufgaben musst Du mit komplexen Zahlen rechnen!



## Strahlteiler


Wenn ein Photon auf einen Strahlteiler trifft, wird die Amplitude in zwei gleich große Anteile aufgeteilt. Es ist nicht möglich zu sagen, welchen „Weg“ das Photon nimmt.



## INTERFERENZVERHALTEN BEIM MACH-ZEHNDER INTERFEROMETER

Nun vergleichen wir die Muster auf **Schirm 1** und **Schirm 2**.

- ② Vergleiche die Muster beider Schirme. Stelle Vermutungen auf, weshalb sich die Muster unterscheiden.



**Tip**


Jede Reflektion am Strahlteiler führt zu einem Phasensprung der Amplitude von 180°.

Beim Übergang zu einzelnen Photonen wird die Intensitätsverteilung (die sich bei sehr vielen Photonen ergibt) zu einer Wahrscheinlichkeitsverteilung für das einzelne Photon. Im verlinkten Video erklären wir den Zusammenhang am Beispiel vom Doppelspalt.



## DIRACS BRA-KET NOTATION

Der geniale englische Physiker Paul Dirac hat 1939 eine Notation eingeführt, mit der Amplituden einzelner Quanten (z.B. Photonen) durch **Zustände** beschrieben werden. Es sei  $|A\rangle$  der Zustand des Photons, dann ist  $\psi(x) = \langle x|A\rangle$  die Wellenfunktion am Ort  $x$ , und  $P(x) = |\psi(x)|^2 = |\langle x|A\rangle|^2$  die Wahrscheinlichkeit, das Photon am Ort  $x$  zu detektieren. Der Vorteil dieser Notation ist die strikte Trennung vom Zustand und der Wahl der Messbasis: Ohne Messbasis hat der Zustand des Photons z.B. keine räumliche Interpretation,  $|A\rangle$  ist rein abstrakt zu verstehen. Als **Amplitude** wird der Vorfaktor vor dem Zustand bezeichnet, allgemein  $\sqrt{p}e^{i\phi/2}|A\rangle$ , wenn  $p$  die Wahrscheinlichkeit ist, den Zustand  $|A\rangle$  zu detektieren. Durch den komplexen Phasenfaktor  $e^{i\phi/2}$  wird die Amplitude interferenzfähig.



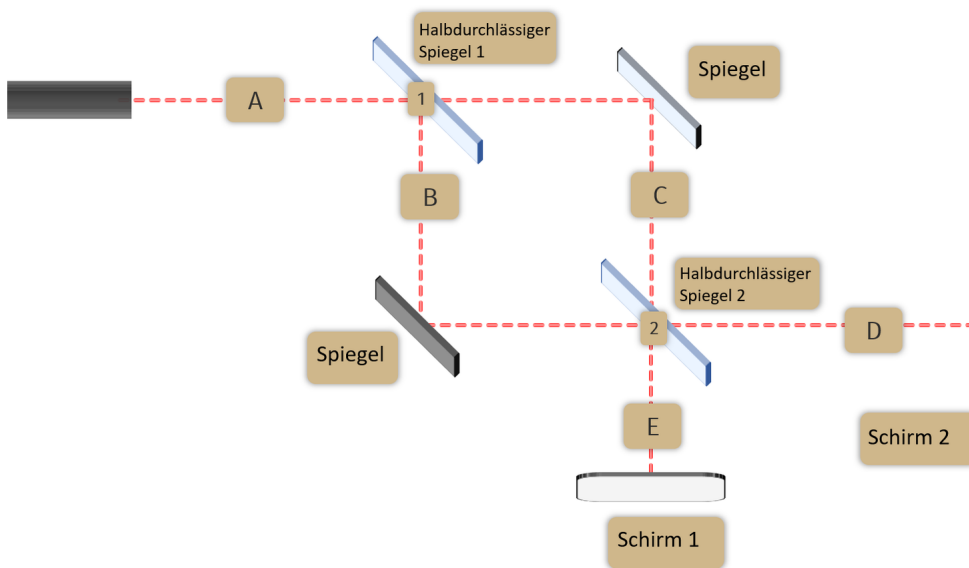
Paul Dirac (1902-1984)



**Imaginäre Einheit  $i$**

Die Wurzel aus minus ein wird auch als imaginäre Einheit  $i = \sqrt{-1}$  geschrieben. Es gilt  $i^2 = -1$ .

# ZUSTÄNDE, AMPLITUDEN UND WAHRSCHEINLICHKEITEN BEIM MACH-ZEHNDER INTERFEROMETER



Es sei  $|A\rangle$  der Zustand des Photons auf dem mit A bezeichneten Teilstück in der Abbildung. Beim ersten halbdurchlässigen Spiegel teilt sich die Amplitude in zwei gleich große Anteile mit Wahrscheinlichkeit  $1/2$ . Das Quadrat der Amplituden ist  $1/2$ , die Amplituden selber sind also proportional zu Wurzel, also  $1/\sqrt{2}$ . Nach dem ersten Strahlteiler gilt also  $|A\rangle \rightarrow 1/\sqrt{2}(\sqrt{-1}|B\rangle + |C\rangle)$ . Der Phasensprung (Umkehrung des Vorzeichens,  $1 \rightarrow -1$ ) bei Reflexion wird entsprechend in der Amplitude zur **Wurzel** aus  $-1$ .

Ganz analog kann die Aufteilung der Amplituden am zweiten Strahlteiler beschrieben werden, wobei der Phasensprung bei der Reflexion zu beachten ist.

$$|B\rangle \rightarrow 1/\sqrt{2}(\sqrt{-1}|E_B\rangle + |D_B\rangle)$$

$$|C\rangle \rightarrow 1/\sqrt{2}(\sqrt{-1}|D_C\rangle + |E_C\rangle)$$




## Amplituden

Die Amplitude  
 $1/\sqrt{2}\sqrt{-1} =$   
 $1/\sqrt{2}e^{i\pi/2}$

hat die allgemeine Form  $\sqrt{p}e^{i\phi/2}$ : Es gilt  $p = 1/2$  beim Strahlteiler, ein Phasenfaktor  $\pi$  wegen dem Phasensprung bei Reflexion.

③ Setze im Zustand  $1/\sqrt{2}(\sqrt{-1}|B\rangle + |C\rangle)$  für die Amplituden für  $|B\rangle, |C\rangle$  die entsprechenden Ausdrücke nach dem zweiten Strahlteiler ein.

- Zeige, dass auf Weg  $E$  zu Schirm 1 die Teilamplitude durch  $1/2(-|E_B\rangle + |E_C\rangle)$  beschrieben wird.
- Zeige, dass auf Weg  $D$  zu Schirm 2 die Teilamplitude durch  $(\sqrt{-1})1/2(|D_B\rangle + |D_C\rangle)$  beschrieben wird.





**Betragsquadrat**  
 Für das Betragsquadrat der komplexen Einheit gilt:  $|i|^2 = 1$

Da die Amplituden  $|E_B \rangle$  und  $|D_B \rangle$  beide dieselbe Wegstrecke  $B$  zwischen den beiden Strahlteilern durchlaufen haben, können wir annehmen, dass diese gleich groß sind, ebenso  $|E_A \rangle$  und  $|D_A \rangle$ . In vereinfachter Notation schreiben wir  $b(x) = \langle x | E_B \rangle$  bei Schirm 1 und  $b(x) = \langle x | D_B \rangle$  am entsprechendem Punkt bei Schirm 2, und analog für  $a(x) = \langle x | E_A \rangle$  bzw  $a(x) = \langle x | D_A \rangle$ .

Für die **Wahrscheinlichkeiten** ergibt sich dann auf Schirm 1 (Weg E)

$$P_1(x) = \frac{1}{4} | -b(x) + c(x) |^2$$

und auf Schirm 2 (Weg D)

$$P_2(x) = \frac{1}{4} | b(x) + c(x) |^2$$

④ Wir betrachten nun identische Orte auf Schirm 1 und Schirm 2 und vergleichen das Interferenzmuster.

- Auf welchem Schirm wird das Photon für  $b(x) = c(x)$  detektiert?
- Auf welchem Schirm wird das Photon für  $b(x) = -c(x)$  detektiert?
- Warum sind die Interferenzmuster auf beiden Schirmen komplementär (invers) zueinander?

